

# Om materialet

Materialet indeholder

- 9 talark
- 12 opgaveark med én opgave på hver
- 1 svarark til hvis de tolv opgaveark bruges
- 1 opgaveark med alle tolv opgaver på
- 1 facitark

## Version 1

Fordel talarkene rundt omkring i klassen. Print et opgaveark med alle tolv opgaver på pr. elev.

## Version 2

Fordel talarkene og de tolv opgaveark med enkeltopgaver rundt omkring i klassen. Print et svarark pr. elev.

Eleverne bevæger sig rundt i klassen og finder talark med de figurer, der matcher figurene i regnestykkerne. Herefter skal de indsætte talværdierne fra talarkene i regnestykkerne med halloween-figurer og udregne resultaterne.

© Julie Hardbo Larsen

Illustrationer:  Creative Clips Clipart by Krista Wallden  
<http://www.teacherspayteachers.com/Store/Krista-Wallden>

Husk at indberette til Copydan, hvis din skole er udvalgt som kontrolskole.

**Opgave 1**

---

**Opgave 2**

---

**Opgave 3**

---

**Opgave 4**

---

**Opgave 5**

---

**Opgave 6**

---

**Opgave 7**

---

**Opgave 8**

---

**Opgave 9**

---

**Opgave 10**





































---

**Opgave 11**

---




**Opgave 12**




---




	+		-		=	_____
	+		+		=	_____
	+		-		=	_____
	-		+		=	_____
	-		+		=	_____
	+		-		=	_____
	+		+		=	_____
	-		+		=	_____
	+		-		=	_____
	-		+		=	_____
	-		+		=	_____
	+		-		=	_____




$$574 + 778 - 645 = 707$$


$$778 + 662 + 705 = 2145$$





$$976 + 645 - 823 = 798$$





$$823 - 586 + 852 = 1089$$





$$662 - 574 + 976 = 1064$$





$$778 + 852 - 586 = 1044$$



$$574 + 823 + 662 = 2059$$


$$645 - 586 + 705 = 764$$


$$662 + 662 - 778 = 546$$


$$976 - 778 + 645 = 843$$


$$823 - 705 + 586 = 704$$


$$852 + 976 - 662 = 1166$$