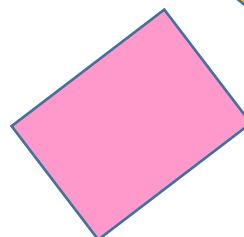





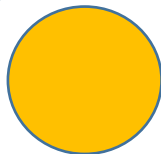




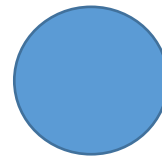


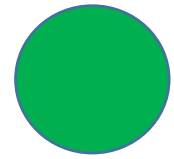

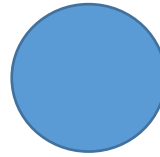

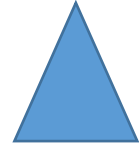
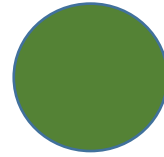
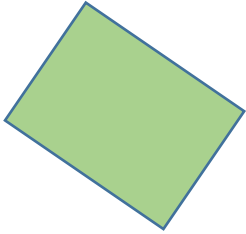
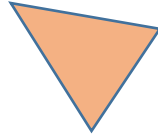





1



②

11 12 14 15 16 17 18

3



4

10

6

17

16

11

5

13

7

17

19

8

12

4

0

15

5

$$4 + 9 =$$





$$5 + 6 =$$

$$8 + 4 =$$


$$10 + 8 =$$

$$2 + 9 =$$

6



7



8



9

C

B

A

A

C

C

B

A

C

C

A

C

C

B

A

A

B

C

B

C

10

4

14

2

6

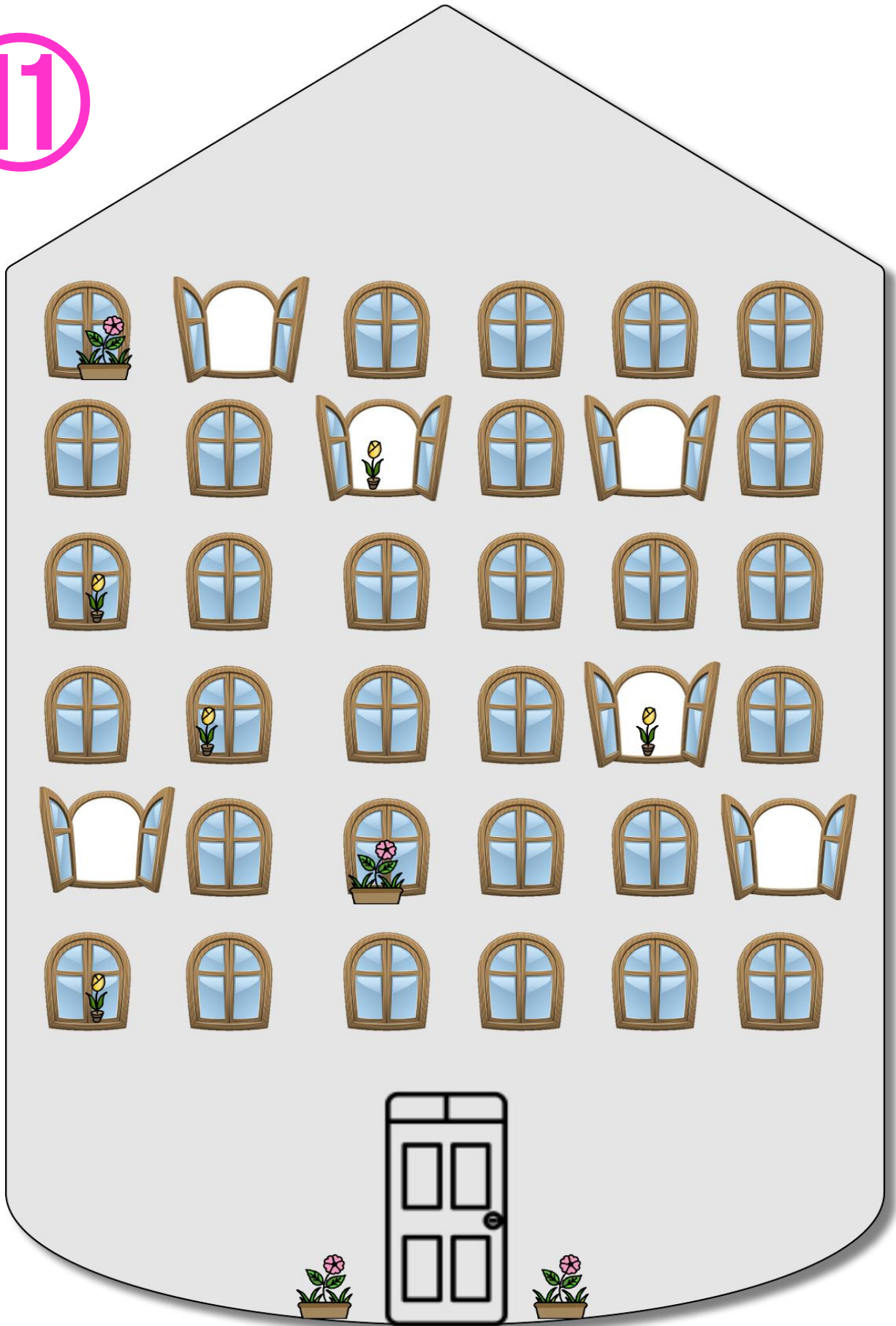
12

3









15

9

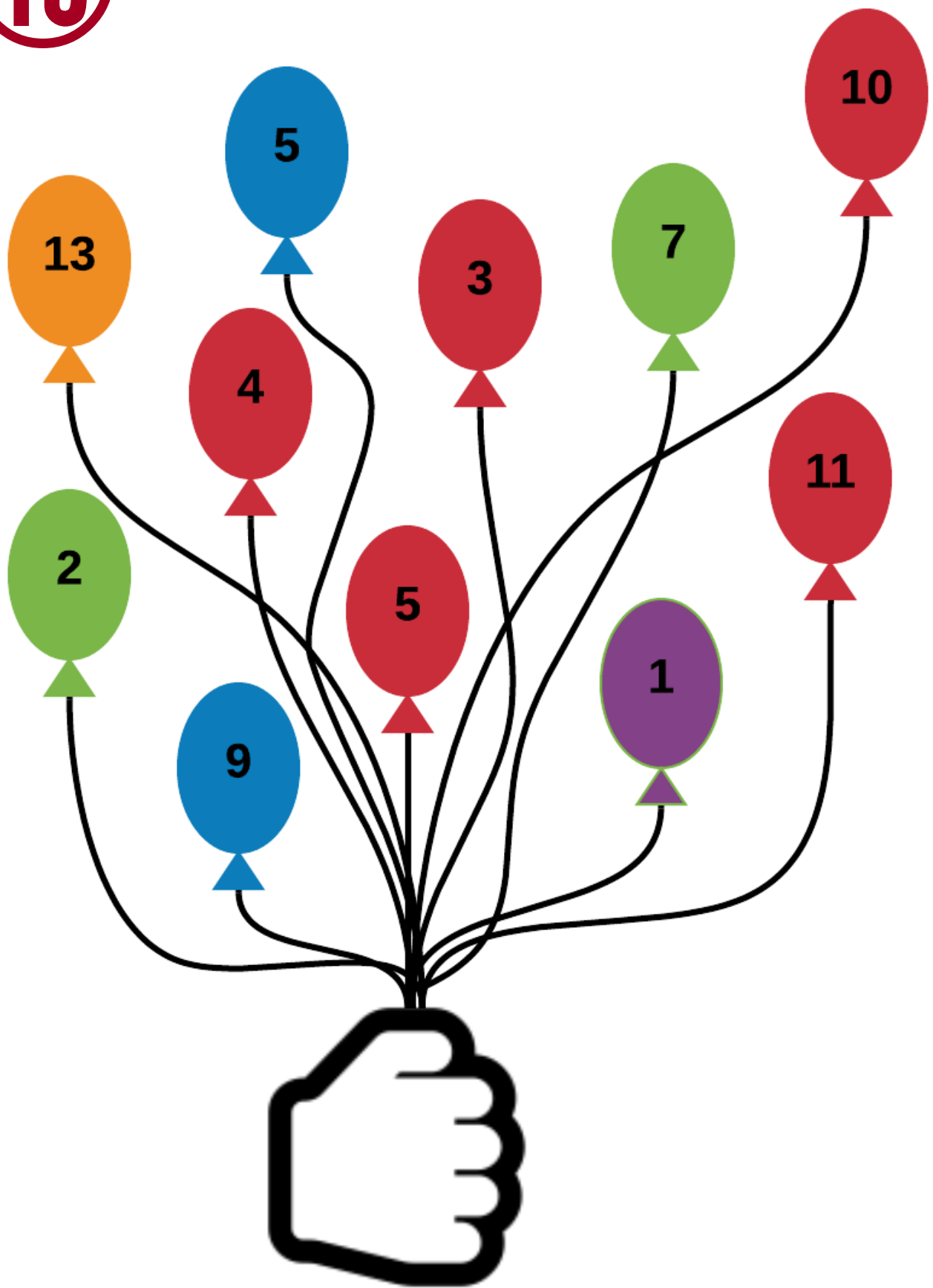
11



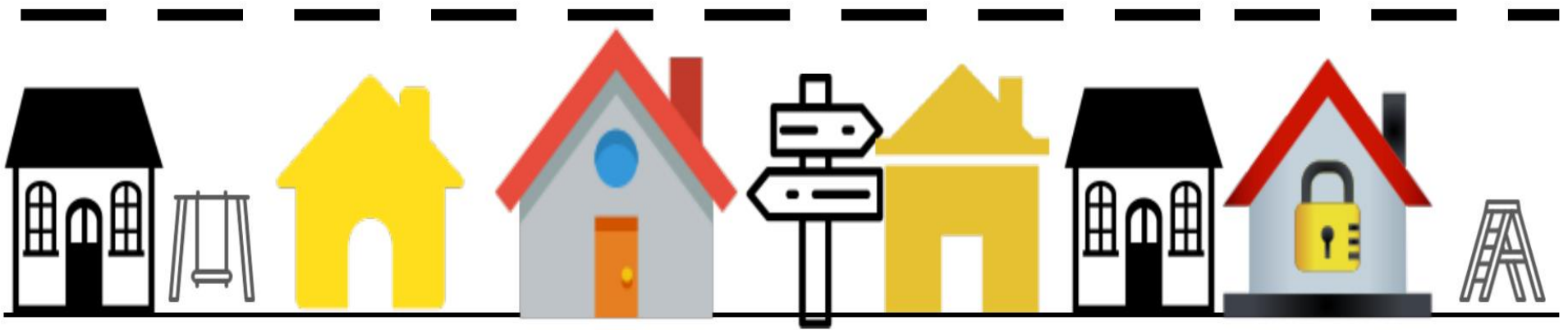
12



13



14



Et



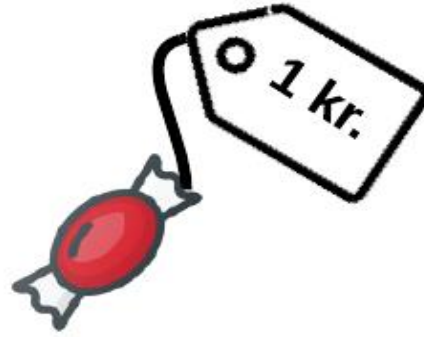

~ ~

15

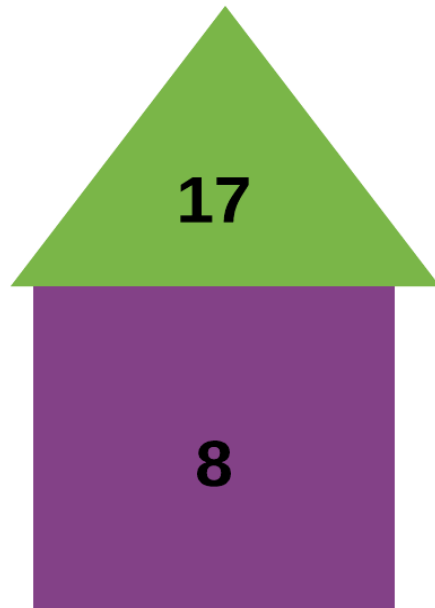
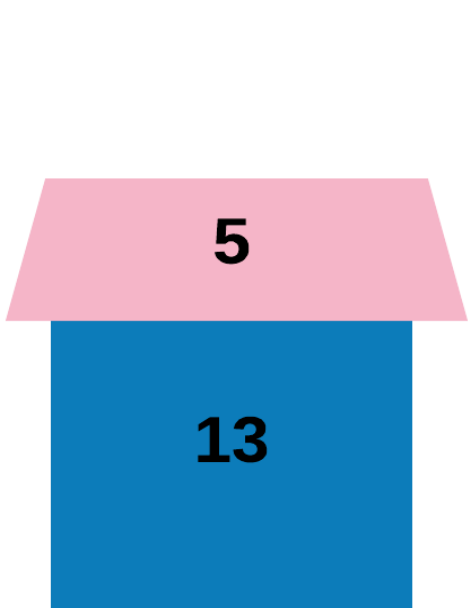

7 8 9 10 11 14 15



17



18



①	Hvor mange firkanter er der?	7
②	Hvilket tal mangler i rækken?	13
③	Hvor mange dyr er der i alt?	6
④	Hvad hedder tallet i den lilla trekant?	17
⑤	Hvad bliver det grønne plusstykke?	11
⑥	Hvor mange blå og grønne biler er der?	6
⑦	Hvor mange prikker har de gule mariehøns i alt?	16
⑧	Hvor mange skraldespande er der i byen?	5
⑨	Hvor mange B' er og C' er er der?	14
⑩	Hvad er det mindste tal?	2
⑪	Hvor mange vinduer er åbne?	6
⑫	Hvor mange øjne er der på de grønne terninger?	9
⑬	Hvad giver tallene i de blå balloner i alt?	14
⑭	Hvor mange gule huse er der?	4
⑮	Hvilke to tal mangler i rækken?	12 og 13
⑯	Hvor mange bananer og pærer er der i alt?	13
⑰	Hvad koster det hvis man køber en ost og en flaske vand?	12 kr.
⑱	Hvilket tal er der imellem de to blå skyer?	11

①	Hvor mange blå trekanter er der?	6
②	Hvad hedder de to grønne tal?	16 og 17
③	Hvor mange ben har hundene og fuglene?	12
④	Du skal plusse de to tal i de røde firkanter.	17
⑤	Hvad bliver det røde plusstykke?	12
⑥	Hvor mange hjul har de grønne biler?	12
⑦	Hvor mange ben har de røde mariehøns i alt?	12
⑧	Hvor mange vinduer er der i banken OG i hotellet?	9
⑨	Hvilket bogstav er der flest af?	C
⑩	Hvad er det største tal?	15
⑪	Hvor mange lyserøde blomster er der i alt?	4
⑫	Hvor mange øjne er der på de blå terninger?	9
⑬	Hvor mange røde er der?	5
⑭	Hvor mange huse har rødt tag?	5
⑮	Hvad bliver det hvis man plusser det røde tal med det blå?	20
⑯	Hvilken kurv har flest stykker frugt?	3
⑰	Hvad koster den dyreste ting?	15 kr.
⑱	Hvilket tal peger pilen på?	1

①	Hvor mange cirkler er ikke blå?	7
②	Hvad hedder det største tal i rækken?	18
③	Hvor mange ben har dyrene i alt?	20
④	Hvilket tal er i den største i de blå cirkler?	19
⑤	Hvad bliver det blå plusstykke?	13
⑥	Hvilke farve biler er der flest af?	Orange
⑦	Hvor mange prikker har en gul og en rød mariehøne i alt?	14
⑧	Hvor mange vinduer er der på 1. sal i banken?	3
⑨	Hvilket bogstav er der færrest af?	B
⑩	Hvad er de to mindste tal lagt sammen?	5
⑪	Er der flest blomster i Lukkede eller Åbne vinduer?	Lukkede
⑫	Hvor mange terninger viser 2?	4
⑬	Hvad giver tallene i den orange plus den lilla ballon?	14
⑭	Hvor mange huse har ikke skorsten?	4
⑮	Hvilket tal er det laveste?	7
⑯	Hvilken slags frugt er der flest af?	Æbler
⑰	Kan man købe et æble og en burger for 15 kr.?	Ja
⑱	Hvad giver tallet i hjertet plus tallet under hjertet?	10

①	Hvor mange firkanter er der ialt?	
②	Hvilket tal mangler i rækken?	
③	Hvor mange dyr er der i alt?	
④	Hvad hedder tallet i den lilla trekant?	
⑤	Hvad bliver det grønne plusstykke?	
⑥	Hvor mange blå og grønne biler er der?	
⑦	Hvor mange prikker har de gule mariehøns i alt?	
⑧	Hvor mange skraldespande er der i byen?	
⑨	Hvor mange B' er og C' er er der?	
⑩	Hvad er det mindste tal?	
⑪	Hvor mange vinduer er åbne?	
⑫	Hvor mange øjne er der på de grønne terninger?	
⑬	Hvad giver tallene i de blå balloner i alt?	
⑭	Hvor mange gule huse er der?	
⑮	Hvilke to tal mangler i rækken?	
⑯	Hvor mange bananer og pærer er der i alt?	
⑰	Hvad koster det hvis man køber en ost og en flaske vand?	
⑱	Hvilket tal er der imellem de to blå skyer?	

①	Hvor mange blå trekanter er der?	
②	Hvad hedder de to grønne tal?	
③	Hvor mange ben har hundene og fuglene?	
④	Du skal plusse de to tal i de røde firkanter.	
⑤	Hvad bliver det røde plusstykke?	
⑥	Hvor mange hjul har de grønne biler?	
⑦	Hvor mange ben har de røde mariehøns i alt?	
⑧	Hvor mange vinduer er der i banken OG i hotellet?	
⑨	Hvilket bogstav er der flest af?	A B C
⑩	Hvad er det største tal?	
⑪	Hvor mange lyserøde blomster er der i alt?	
⑫	Hvor mange øjne er der på de blå terninger?	
⑬	Hvor mange røde er der?	
⑭	Hvor mange huse har rødt tag?	
⑮	Hvad bliver det hvis man plusser det røde tal med det blå?	
⑯	Hvilken kurv har flest stykker frugt?	
⑰	Hvad koster den dyreste ting?	
⑱	Hvilket tal peger pilen på?	

①	Hvor mange cirkler er ikke blå?	
②	Hvad hedder det største tal i rækken?	
③	Hvor mange ben har dyrene i alt?	
④	Hvilket tal er i den største af de blå cirkler?	
⑤	Hvad bliver det blå plusstykke?	
⑥	Hvilke farve biler er der flest af?	
⑦	Hvor mange prikker har en gul og en rød mariehøne i alt?	
⑧	Hvor mange vinduer er der på 1. sal i banken?	
⑨	Hvilket bogstav er der færrest af?	
⑩	Hvad er de to mindste lagt sammen?	
⑪	Er der flest blomster i de Lukkede eller Åbne vinduer?	L Å
⑫	Hvor mange terninger viser 2?	
⑬	Hvad giver tallene i den orange plus den lilla ballon?	
⑭	Hvor mange huse har ikke skorsten?	
⑮	Hvilket tal er det laveste?	
⑯	Hvilken slags frugt er der flest af?	
⑰	Kan man købe et æble og en burger for 15 kr.?	JA NEJ
⑱	Hvad giver tallet i hjertet plus tallet under hjertet?	