

# Om materialet

Dette materiale består af

- 10 opgavekort med gangehistorier til regnestykker af typen 2x2 cifre
- 1 svarark
- 1 facitark

Opgavekortene kan fx placeres rundt omkring i klassen eller som poster på et lille løb.


© Julie Hardbo Larsen

Ramme:  Creative Clips Clipart by Krista Wallden


<http://www.teacherspayteachers.com/Store/Krista-Wallden>

Husk at indberette til Copydan, hvis din skole er udvalgt som kontrolskole.

32 lyserøde babymonstre  
spiser 45 græskar hver.  
Hvor mange græskar  
spiser de i alt?




På bondemandens mark er der 37 rækker med 24 græskar i hver. Hvor mange græskar har bondemanden i alt?





68 blå edderkopper har 8  
ben hver. Hvor mange ben  
har de i alt?



Frankenstein-monsterets  
23 børnebørn har 35  
legetøjs-edderkopper hver.  
Hvor mange  
edderkopper har  
de i alt?




87 hekse har 45 hatte hver.  
Hvor mange hatte har de i  
alt?





Dr. Frankenstein har 50  
gange lavet 27 falske  
græskar i sit laboratorium.  
Hvor mange  
græskar har  
han lavet i alt?




7 lilla monstre har 58  
prikker hver på deres  
underhylere. Hvor  
mange prikker har  
de i alt på under-  
hylerne?






33 blå babymonstre tjener  
63 kroner hver på at rasle  
til halloween. Hvor  
mange penge  
tjener de i alt?



47 edderkopper spiser 43  
fluer hver. Hvor mange fluer  
spiser de i alt?



9 hekse har hver 64 pink  
græskar i deres  
køkkenhave. Hvor mange  
græskar har de  
i alt?

