


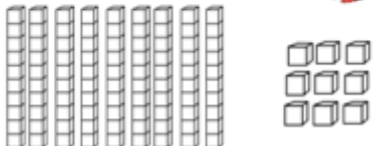
Dagens Tal

Navn _____



Dagens Tal

Du skal farve dagens tal:



Du skal bryde dagens tal op:

$$\square + \square = \square$$

Dagens tal: _____

Lige *Ulige*


Du skal finde mere og mindre:

+1	
-1	

Du skal skrive antal tiere og enere:

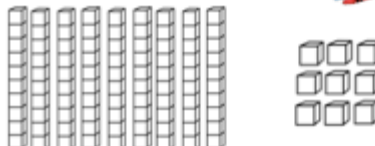
10'ere	1'ere

Navn _____




Dagens Tal

Du skal farve dagens tal:




Du skal tegne dagens tal med penge:



Du skal skrive antal tiere og enere:

Dagens tal har: _____ tiere og _____ enere


Du skal lave tælle-streger:



Du skal tælle videre fra dagens tal:

Tæl videre _____

Navn _____




Dagens Tal

Du skal skrive hvor mange 100'ere, 10'ere og 1'ere der er:

100'ere	10'ere	1'ere

Du skal farve dagens tal:



Du skal finde mere og mindre:

1 mere = _____ 10 mere = _____

1 mindre = _____ 10 mindre = _____

Du skal sætte ring:

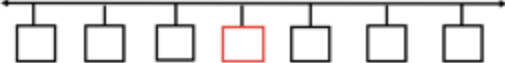
Lige *Ulige*

Du skal bryde dagens tal op:


$$\square + \square + \square = \square$$

Dagens tal _____

Du skal skrive dagens tal midt på tallinjen og udfylde resten:




Navn _____



Dagens Tal

Du skal farve dagens tal:



Du skal farve:

Lige *Ulige*

Du skal bryde dagens tal op:

$$\square + \square + \square = \square$$

Dagens tal _____

Du skal skrive dagens tal på den røde streg og udfylde tallinjen:



Dagens Tal

Navn _____

Dagens Tal



Du skal farve dagens tal:



Du skal finde mere og mindre:

1 mere = _____

1 mindre = _____

10 mere = _____

10 mindre = _____

100 mere = _____

100 mindre = _____

Du skal tegne dagens tal med penge:




Du skal skrive dagens tal på den røde streg og udfylde tallinjen:



Navn _____

Dagens Tal



Du skal farve dagens tal:



Du skal farve:

Lige Ulige

Du skal bryde dagens tal op:

+ + =

Brug cifrene til at lave det størst mulige tal: _____

Brug cifrene til at lave det mindst mulige tal: _____

Navn _____

Dagens Tal



Du skal skrive hvor mange søvere, søvere og rere der er:

Dagens tal har: _____ hundreder _____ tiere og _____ enere

Du skal farve:

Lige Ulige

Du skal finde mere og mindre:

+ 1	
- 1	
+ 10	
- 10	
+ 100	
- 100	

Skriv et tal der er større end dagens tal: _____

Skriv et tal der er mindre end dagens tal: _____


Du skal tegne dagens tal med penge:



Du skal bryde dagens tal op:

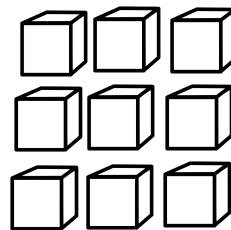
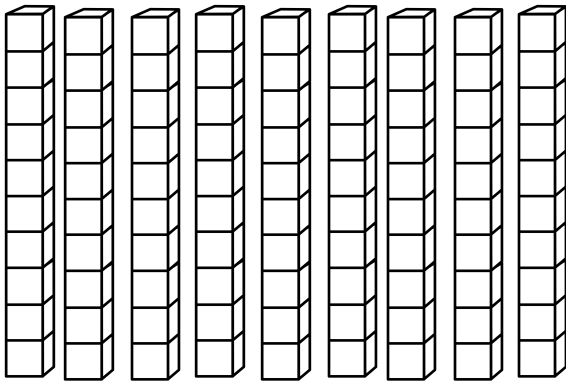
+ + = Dagens tal

Navn _____




Dagens Tal

Du skal farve dagens tal:




Du skal bryde dagens tal op:

$$\square + \square = \square$$

Dagens tal: 

Du skal sætte ring:

Lige 
Ulige


Du skal finde mere og mindre: 

+ 1	
- 1	

Du skal skrive antal tiere og enere: 

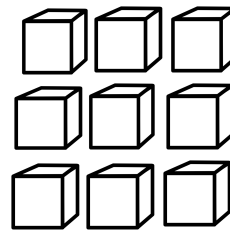

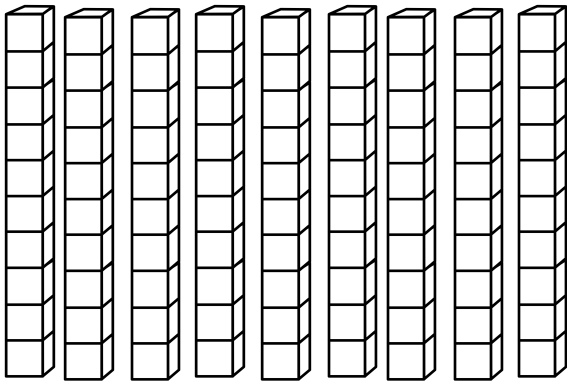
10'ere	1'ere

Navn _____




Dagens Tal

Du skal farve dagens tal:



Du skal tegne dagens tal med penge:



Du skal skrive antal tiere og enere:

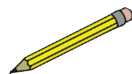
Dagens tal har:

_____ tiere og _____ enere

Du skal lave tælle-streger:




Du skal tælle videre fra dagens tal:



Tæl videre _____

Navn _____



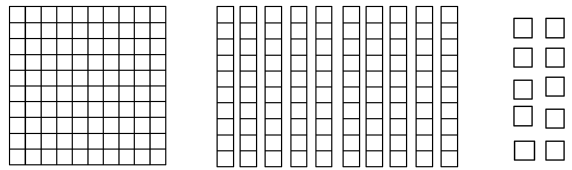
Dagens Tal

Du skal skrive hvor mange 100'ere, 10'ere og 1'ere der er:



100'ere	10'ere	1'ere

Du skal farve dagens tal:



Du skal finde mere og mindre:



1 mere = _____ 10 mere = _____

1 mindre = _____ 10 mindre = _____

Du skal sætte ring:



Lige **Ulige**

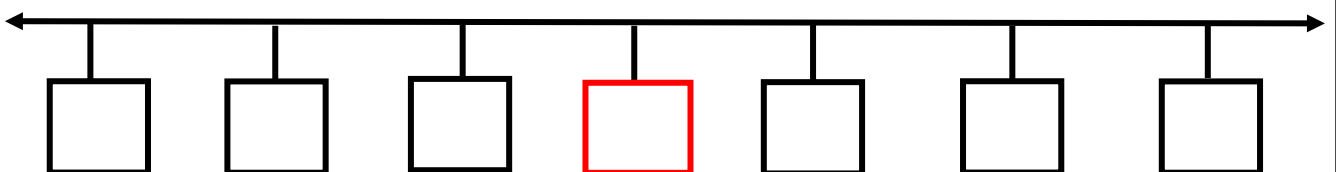
Du skal bryde dagens tal op:




$$\square + \square + \square = \square$$

Dagens tal

Du skal skrive dagens tal midt på tallinjen og udfylde resten:
















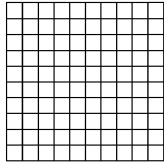
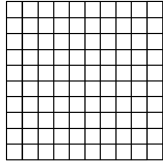

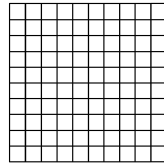




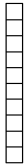




Navn _____



Dagens Tal

Du skal farve dagens tal:



Du skal farve:







Lige

Ulige

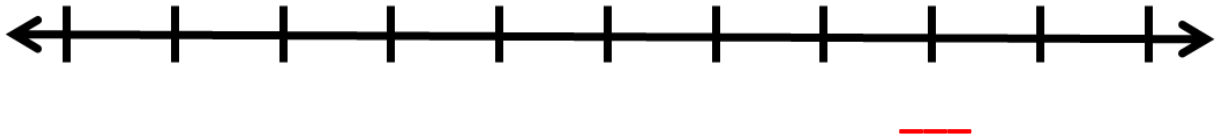
Du skal bryde dagens tal op:



	+		+		=	
--	---	---	---	---	---	---


Dagens tal

Du skal skrive dagens tal på den røde streg og udfylde tallinjen:



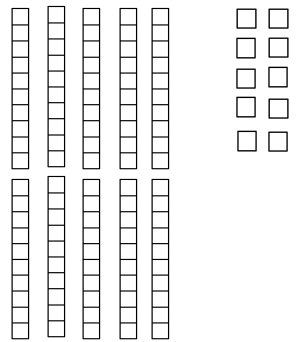

A horizontal number line with arrows at both ends and ten vertical tick marks. Below the line, there is a short red horizontal line.

Navn _____



Dagens Tal

Du skal farve dagens tal:



Du skal farve:



Lige

Ulige

Du skal bryde dagens tal op:



$$\square + \square + \square = \square$$


Brug cifrene til at lave det størst mulige tal:

Brug cifrene til at lave det mindst mulige tal:



Navn _____

Dagens Tal



Du skal skrive hvor mange 100'ere, 10'ere og 1'ere der er:

Dagens tal har:

_____ hundreder _____ tiere og _____ enere



Du skal farve:

Lige



Ulige

Du skal finde mere og mindre:



+ 1	
- 1	
+ 10	
- 10	
+ 100	
- 100	

Skriv et tal der er større end dagens tal:



Skriv et tal der er mindre end dagens tal:



Du skal tegne dagens tal med penge:



Du skal bryde dagens tal op:



+

+

=


Dagens tal

Navn _____

Dagens Tal



Du skal farve dagens tal:



Du skal farve:



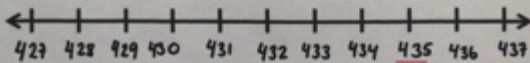
Lige

Ulige

Du skal bryde dagens tal op:

$$400 + 30 + 5 = 435$$

Du skal skrive dagens tal på den røde streg og udfylde tallinjen:



Navn _____


Dagens Tal



Du skal skrive hvor mange 100'ere, 10'ere og 1'ere der er:

100'ere	10'ere	1'ere
1	2	6

Du skal farve dagens tal:



Du skal finde mere og mindre:

$$1 \text{ mere} = 127 \quad 10 \text{ mere} = 136$$

$$1 \text{ mindre} = 125 \quad 10 \text{ mindre} = 116$$

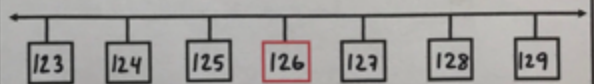
Du skal sætte ring:

Lige **Ulige**

Du skal bryde dagens tal op:

$$100 + 20 + 6 = 126$$

Du skal skrive dagens tal midt på tallinjen og udfylde resten:

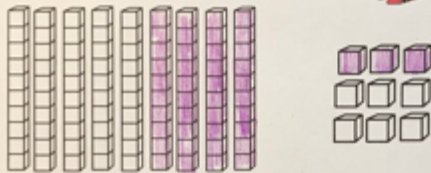


Navn _____

Dagens Tal



Du skal farve dagens tal:



Du skal tegne dagens tal med penge;



Du skal skrive antal tiere og enere:

Dagens tal har:
4 tiere og 3 enere

Du skal lave tælle-streger:

Du skal tælle videre fra dagens tal:

Tæl videre 44, 45, 46, 47, 48, 49, 50

Navn _____

Dagens Tal



Du skal farve dagens tal:



Du skal bryde dagens tal op:

$$30 + 8 = 38$$

Du skal sætte ring:

Lige **Ulige**

Du skal finde mere og mindre:

+1	39
-1	37

Du skal skrive antal tiere og enere:


10'ere	1'ere
3	8

Navn _____

Dagens Tal



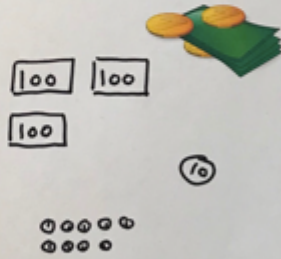
Du skal farve dagens tal:



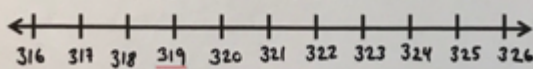
Du skal finde mere og mindre:

- 1 mere = 320
- 1 mindre = 318
- 10 mere = 329
- 10 mindre = 309
- 100 mere = 419
- 100 mindre = 219

Du skal tegne dagens tal med penge:



Du skal skrive dagens tal på den røde streg og udfylde tallinjen:




Navn _____

Dagens Tal



Du skal farve dagens tal:



Du skal farve:



Lige

Ulige

Du skal bryde dagens tal op:

$$400 + 90 + 2 = 492$$

Brug cifrene til at lave det størst mulige tal:

942

Brug cifrene til at lave det mindst mulige tal:

249

Navn _____

Dagens Tal




Du skal skrive hvor mange 100'ere, 10'ere og 1'ere der er:

Dagens tal har:

2 hundreder 5 tiere og 4 enere

Du skal farve:



Du skal finde mere og mindre:

+1	255
-1	253
+10	264
-10	244
+100	354
-100	154

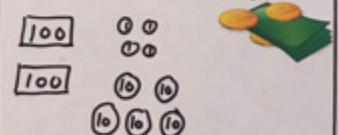
Skriv et tal der er større end dagens tal:

327

Skriv et tal der er mindre end dagens tal:

14

Du skal tegne dagens tal med penge:



Du skal bryde dagens tal op:

$$200 + 50 + 4 = 254$$

Dagens tal

Udgivelsen :

Tak, fordi du hentede mit materiale. Har du spørgsmål er du meget velkommen til at skrive til mig:

gitte78beck@yahoo.dk

Illustrationer/billeder/clipart mm. er hentet her:



<https://www.teacherspayteachers.com/Store/Time-Saving-Tools>

<https://openclipart.org/detail/2889/money-banknotes-and-coin>